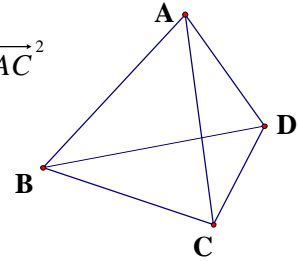


廖老师网上千题解答分类八、超纲向量

771、如何证明空间四边形中四边的平方和大于对角线的平方和 (空间向量)

如图 ABCD 是空间四边形, 求证: $AB^2 + BC^2 + CD^2 + AD^2 > BD^2 + AC^2$

$$\begin{aligned}
 & \text{证明: } AB^2 + BC^2 + CD^2 + AD^2 - BD^2 - AC^2 \\
 &= \overrightarrow{AB}^2 + \overrightarrow{BC}^2 + \overrightarrow{CD}^2 + \overrightarrow{AD}^2 - \overrightarrow{BD}^2 - \overrightarrow{AC}^2 \\
 &= \overrightarrow{AB}^2 + (\overrightarrow{AC} - \overrightarrow{AB})^2 + (\overrightarrow{AD} - \overrightarrow{AC})^2 + \overrightarrow{AD}^2 - (\overrightarrow{AD} - \overrightarrow{AB})^2 - \overrightarrow{AC}^2 \\
 &= \overrightarrow{AB}^2 + \overrightarrow{AC}^2 + \overrightarrow{AD}^2 - 2\overrightarrow{AC} \cdot \overrightarrow{AB} - 2\overrightarrow{AD} \cdot \overrightarrow{AC} + 2\overrightarrow{AD} \cdot \overrightarrow{AB} \\
 &= (\overrightarrow{AB} - \overrightarrow{AC} + \overrightarrow{AD})^2 \geq 0
 \end{aligned}$$



当且仅当 $\overrightarrow{AC} = \overrightarrow{AB} + \overrightarrow{AD}$ 时上式取等号

因 ABCD 是空间四边形故 $\overrightarrow{AC} \neq \overrightarrow{AB} + \overrightarrow{AD}$

故 $AB^2 + BC^2 + CD^2 + AD^2 > BD^2 + AC^2$

965、(向量)

若 O 与 H 分别是 $\triangle ABC$ 的外心与垂心, $\overrightarrow{OA} + \overrightarrow{OB} + \overrightarrow{OC} = I\overrightarrow{OH}$, 则 $I = \underline{\hspace{2cm}}$

解 1: 设 G 是 $\triangle ABC$ 的重心

$$\begin{aligned}
 \overrightarrow{OA} + \overrightarrow{OB} + \overrightarrow{OC} &= (\overrightarrow{OG} + \overrightarrow{GA}) + (\overrightarrow{OG} + \overrightarrow{GB}) + (\overrightarrow{OG} + \overrightarrow{GC}) \\
 &= 3\overrightarrow{OG} + (\overrightarrow{GA} + \overrightarrow{GB} + \overrightarrow{GC})
 \end{aligned}$$

由欧拉线定理是 $3\overrightarrow{OG} = \overrightarrow{OH}$, 又 $\overrightarrow{GA} + \overrightarrow{GB} + \overrightarrow{GC} = \vec{0}$

于是 $\overrightarrow{OA} + \overrightarrow{OB} + \overrightarrow{OC} = \overrightarrow{OH}$, 因此 $I = 1$

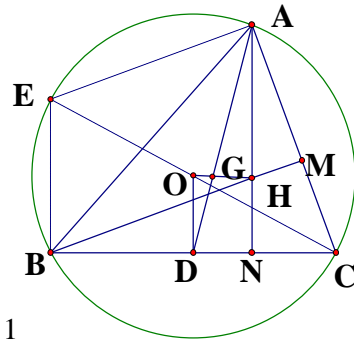
解 2: 设

$$\overrightarrow{OA} + \overrightarrow{OB} + \overrightarrow{OC} = \overrightarrow{OM}, \text{ 则 } \overrightarrow{OA} + \overrightarrow{OB} = \overrightarrow{OM} - \overrightarrow{OC} = \overrightarrow{CM}$$

因 $(\overrightarrow{OA} + \overrightarrow{OB}) \perp \overrightarrow{AB}$ 于是 $\overrightarrow{CM} \perp \overrightarrow{AB}$, 同理 $\overrightarrow{BM} \perp \overrightarrow{AC}$

于是 M 是垂心, $\overrightarrow{OA} + \overrightarrow{OB} + \overrightarrow{OC} = \overrightarrow{OM} = \overrightarrow{OH}$

考题是出成选择题, 可用直角三角形为特例得出 $I = 1$

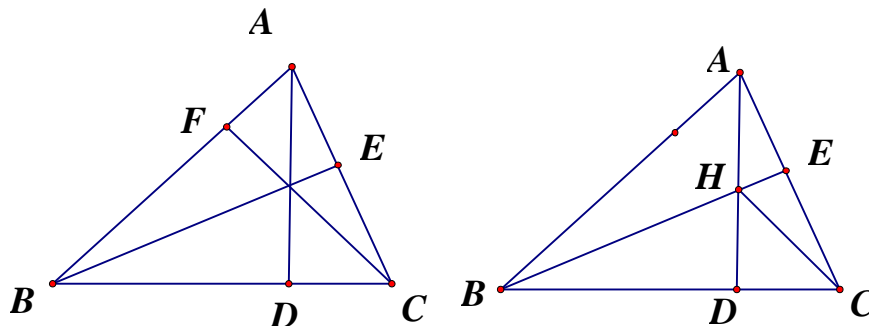


993、(平凡向量)

求证三角形三条高交于一点

如图：AD, BE, CF 是 $\triangle ABC$ 的三条高。求证：AD、BE、CF 相交于一点。

证明：设 AD 与 BE 相交于点 H，下面证点 H 在高 CF 上。



证明 1：设 AD 与 BE 交于 H 点，连 CH

因为 $AD \perp BC$ ， $BE \perp AC$

$$\text{所以 } \overrightarrow{HA} \cdot \overrightarrow{BC} = \overrightarrow{HA} \cdot (\overrightarrow{HC} - \overrightarrow{HB}) = 0$$

$$\overrightarrow{HB} \cdot \overrightarrow{AC} = \overrightarrow{HB} \cdot (\overrightarrow{HC} - \overrightarrow{HA}) = 0$$

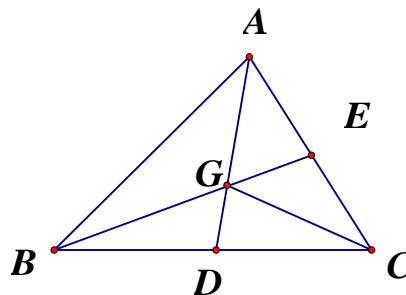
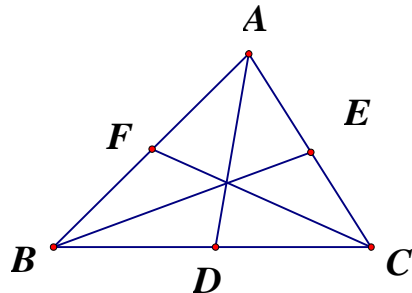
$$\text{相减得 } \overrightarrow{HA} \cdot \overrightarrow{HC} - \overrightarrow{HB} \cdot \overrightarrow{HC} = 0$$

$$\overrightarrow{HC} \cdot (\overrightarrow{HA} - \overrightarrow{HB}) = 0, \text{ 即 } \overrightarrow{HC} \cdot \overrightarrow{CA} = 0, \text{ 于是 } \overrightarrow{HC} \perp \overrightarrow{CA} = 0,$$

点 H 在高 CF 上，故 AD、BE、CF 相交于同一点 H

994、求证：三角形的三条中线交于一点

已知：如图：AD、BE、CF是 $\triangle ABC$ 的三条中线。求证：AD、BE、CF相交于一点。



证1：设AD与BE相交于点G，连DE，则

$$DE \parallel AB, DE = \frac{1}{2} AB, \text{ 于是 } \frac{AG}{GD} = \frac{AB}{DE} = 2, AG = \frac{2}{3} AD$$

再设AD与CF相交于点 G' ，同理可 $AG' = \frac{2}{3} AD$

于是G与 G' 重合，因此三条中线交于一点

证2：设AD与BE相交于点G，下面证明 $\overrightarrow{AG} = 2\overrightarrow{GD}$

设 $\overrightarrow{AG} = l\overrightarrow{GD}$ ， $\overrightarrow{BG} = m\overrightarrow{GE}$ ， $\overrightarrow{CE} = \vec{e}_1$ ， $\overrightarrow{CD} = \vec{e}_2$ 则

$$\overrightarrow{CG} = \frac{\overrightarrow{CA} + l\overrightarrow{CD}}{1+l} = \frac{2\vec{e}_1 + l\vec{e}_2}{1+l}, \quad \overrightarrow{CG} = \frac{\overrightarrow{CB} + m\overrightarrow{CE}}{1+m} = \frac{2\vec{e}_2 + m\vec{e}_1}{1+m}$$

$$\text{于是 } \begin{cases} \frac{2}{1+l} = \frac{m}{1+m} \\ \frac{l}{1+l} = \frac{2}{1+m} \end{cases} \text{ 解得 } \begin{cases} l = 2 \\ m = 2 \end{cases}, \text{ 故 } \overrightarrow{AG} = 2\overrightarrow{GD}$$

设AD与CF相交于点 G' ，同理可证 $\overrightarrow{AG'} = 2\overrightarrow{G'D}$

于是G与 G' 重合，故AD、BE、CF相交于同一点G

1057、(向量)

在三角形 ABC 中存在一点 O, 已知 $a\vec{OA} + b\vec{OB} + c\vec{OC} = \vec{0}$, 问 O 点是三角形的什么点! 证明一下!

解: 内心 $\vec{OB} = \vec{OA} + \vec{AB}, \vec{OC} = \vec{OA} + \vec{AC}$ 则

$$a\vec{OA} + b\vec{OB} + c\vec{OC} = (a+b+c)\vec{OA} + b\vec{AB} + c\vec{AC} = \vec{0}$$

$$\text{所以 } \vec{AO} = \frac{bc}{a+b+c} \left(\frac{\vec{AB}}{c} + \frac{\vec{AC}}{b} \right),$$

因为 $\left(\frac{\vec{AB}}{c} \text{ 与 } \frac{\vec{AC}}{b} \right)$ 分别为 \vec{AB}, \vec{AC} 方向上的单位向量, 向量 $\left(\frac{\vec{AB}}{c} + \frac{\vec{AC}}{b} \right)$ 与 \vec{AO}

共线, 且平分 $\angle BAC$, 所以

AO 平分 $\angle BAC$, 同理 BO 平分 $\angle ABC$, CO 平分 $\angle ACB$, 从而 O 是 $\triangle ABC$ 的内心

1194、(向量)

已知 A, B, C 是平面上不共线的三点, O 为 $\triangle ABC$ 外心, 动点 P 满足

$$\vec{OP} = \frac{1}{3}[(1-l)\vec{OA} + (1-l)\vec{OB} + (1+2l)\vec{OC}] \quad (l \in \mathbb{R} \text{ 且 } l \neq 0),$$

则动点 P 的轨迹一定通过 $\triangle ABC$ 的()

- A、内心 B、垂心 C、重心 D、AB 边的中点

解: 设 D 是 AB 中点

$$\text{于是 } \frac{1}{2}(\vec{OA} + \vec{OB}) - \vec{OC} = \vec{CD}$$

$$\vec{OA} + \vec{OB} - 2\vec{OC} = 2\vec{CD},$$

$$\text{因 } \vec{OP} = \frac{1}{3}[(1-l)\vec{OA} + (1-l)\vec{OB} + (1+2l)\vec{OC}]$$

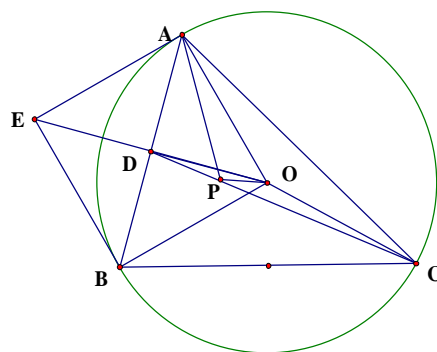
$$\text{故 } 3\vec{OP} = (1-l)\vec{OA} + (1-l)\vec{OB} + (1+2l)\vec{OC}$$

$$3(\vec{OC} + \vec{CP}) = \vec{OA} + \vec{OB} + \vec{OC} + l(2\vec{OC} - \vec{OA} - \vec{OB})$$

$$\text{于是 } 3\vec{CP} = (\vec{OA} + \vec{OB} - 2\vec{OC}) + l(2\vec{OC} - \vec{OA} - \vec{OB})$$

$$= 2\vec{CD} - 2l\vec{CD} = 2(1-l)\vec{CD},$$

因此点 P 在直线 CD 上, 故选 D

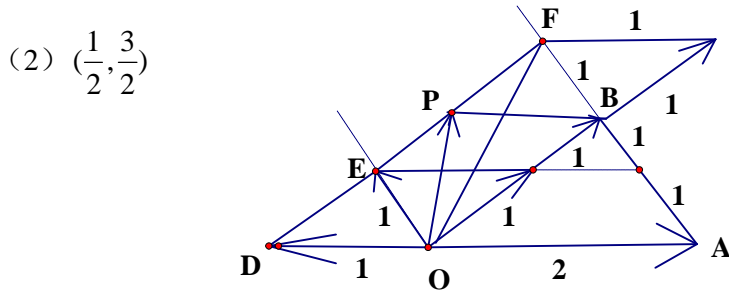
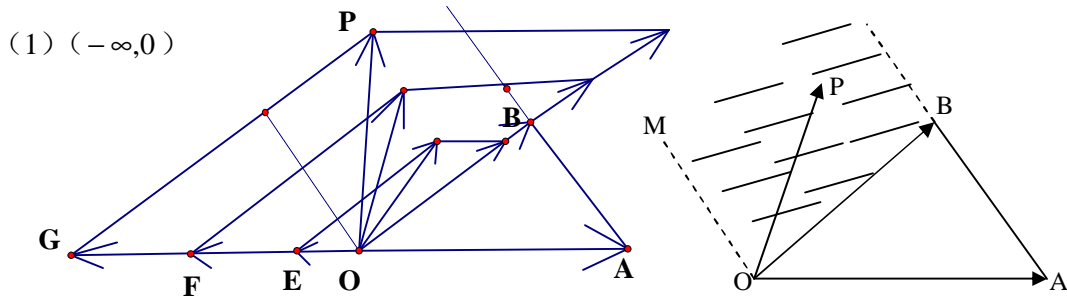


1327

<http://chat.pep.com.cn/lb5000/topic.cgi?forum=38&topic=22484&show=015>

如图, $OM \parallel AB$, 点 P 在由射线 OM 、线段 OB 及 AB 的延长线围成的阴影区域内(不含边界)运动, 且 $\vec{OP} = x\vec{OA} + y\vec{OB}$, 则 x 的取值范围是_____;

当 $x = -\frac{1}{2}$ 时, y 的取值范围是_____.



本题: 是力学题目的改编, 要理解向量的基本定理, 能用好平面几何比例的性质, 才能做清楚, 是个好题。

1420、

已知点 P 在 $\triangle ABC$ 内部，若 $l_1 \overrightarrow{PA} + l_2 \overrightarrow{PB} + l_3 \overrightarrow{PC} = \vec{0}$

求证： $S_{\triangle PBC} : S_{\triangle PAC} : S_{\triangle PAB} = l_1 : l_2 : l_3$

证明：

作 $\overrightarrow{PA'} = l_1 \overrightarrow{PA}$ $\overrightarrow{PB'} = l_2 \overrightarrow{PB}$ $\overrightarrow{PC'} = l_3 \overrightarrow{PC}$

则点 P 是 $\triangle A'B'C'$ 的重心，于是

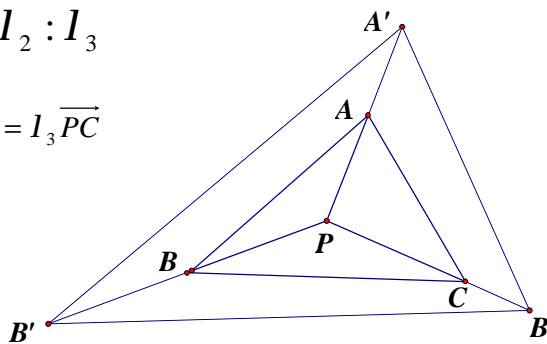
$\triangle PA'B'$, $\triangle PB'C'$, $\triangle PA'C'$ 面积相等设为 S

于是

$$\frac{S_{\triangle PBC}}{S} = \frac{PA \cdot PB}{PA' \cdot PB'} = \frac{1}{l_2 l_3}$$

$$\frac{S_{\triangle PCA}}{S} = \frac{1}{l_1 l_3} \quad \frac{S_{\triangle PAB}}{S} = \frac{1}{l_1 l_2}$$

于是 $S_{\triangle PBC} : S_{\triangle PAC} : S_{\triangle PAB} = l_1 : l_2 : l_3$



注：

如果点 O 为三角形的重心，那么 $\overrightarrow{OA} + \overrightarrow{OB} + \overrightarrow{OC} = \vec{0}$

如果点 O 为三角形的内心，那么 $a\overrightarrow{OA} + b\overrightarrow{OB} + c\overrightarrow{OC} = \vec{0}$

如果点 O 为三角形的外心，那么 $\sin 2A\overrightarrow{OA} + \sin 2B\overrightarrow{OB} + \sin 2C\overrightarrow{OC} = \vec{0}$

如果点 O 为三角形的垂心，那么 $\tan A\overrightarrow{OA} + \tan B\overrightarrow{OB} + \tan C\overrightarrow{OC} = \vec{0}$

如果点 P 为三角形内一点， $l_1 \overrightarrow{PA} + l_2 \overrightarrow{PB} + l_3 \overrightarrow{PC} = \vec{0}$ 那么

$$S_{\triangle PBC} : S_{\triangle PAC} : S_{\triangle PAB} = l_1 : l_2 : l_3$$

1439、

<http://bbs.pep.com.cn/thread-292196-1-1.html>

设 I 为 $\triangle ABC$ 的内心, $AB=AC=5$, $BC=6$, $\vec{AI} = m\vec{AB} + n\vec{BC}$ 求 m 和 n 的值

解: $\vec{AI} = m\vec{AB} + n\vec{BC}$ 可化为 $\vec{AI} = m(\vec{AI} + \vec{IB}) + n(\vec{BI} + \vec{IC})$

于是 $(1-m)\vec{IA} + (m-n)\vec{IB} + n\vec{IC} = \vec{0}$

又考虑到 $a\vec{IA} + b\vec{IB} + c\vec{IC} = \vec{0}$

于是 $\frac{1-m}{6} = \frac{m-n}{5} = \frac{n}{5}$, 故 $m = \frac{5}{8}, n = \frac{5}{16}$

1480、设 O 是正五边形 ABCDE 的中心, 求证: $\vec{OA} + \vec{OB} + \vec{OC} + \vec{OD} + \vec{OE} = \vec{0}$

证明: 设 $\vec{OA} + \vec{OB} + \vec{OC} + \vec{OD} + \vec{OE} = \vec{OT}$

把正五边形 ABCDE 绕着 O 点旋转 72° 后, $\vec{OA} + \vec{OB} + \vec{OC} + \vec{OD} + \vec{OE}$ 不变

即 \vec{OT} 不变, 于是 $\vec{OT} = \vec{0}$